

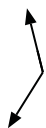


Determine if the angle shown is 'less', 'more' or 'equal' to 90°.

Ex)



1)



2)



Answers

Ex. less

3)



4)



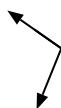
5)



1. _____

2. _____

6)



7)



8)



3. _____

4. _____

5. _____

6. _____

7. _____

9)



10)



11)



8. _____

9. _____

10. _____

12)



13)



14)



11. _____

12. _____

13. _____

15)



16)



17)



14. _____

15. _____

16. _____

18)



19)



20)



17. _____

18. _____

19. _____

20. _____



Determine if the angle shown is 'less', 'more' or 'equal' to 90°.

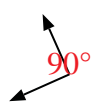
Ex)



1)



2)



Ex.

less

3)



4)



5)



1.

more

2.

equal

3.

more

4.

equal

5.

equal

6)



7)



8)



6.

more

7.

equal

9)



10)



11)



9.

less

10.

more

11.

less

12)



13)



14)



12.

less

13.

equal

14.

more

15)



16)



17)



15.

less

16.

equal

18)



19)



20)



17.

more

18.

less

19.

more

20.

less